

ജില്ലയുടെ പേര്: കാസറഗോഡ്  
ബി.ആർ.സി.യുടെ പേര്: ചെറുവത്തൂർ

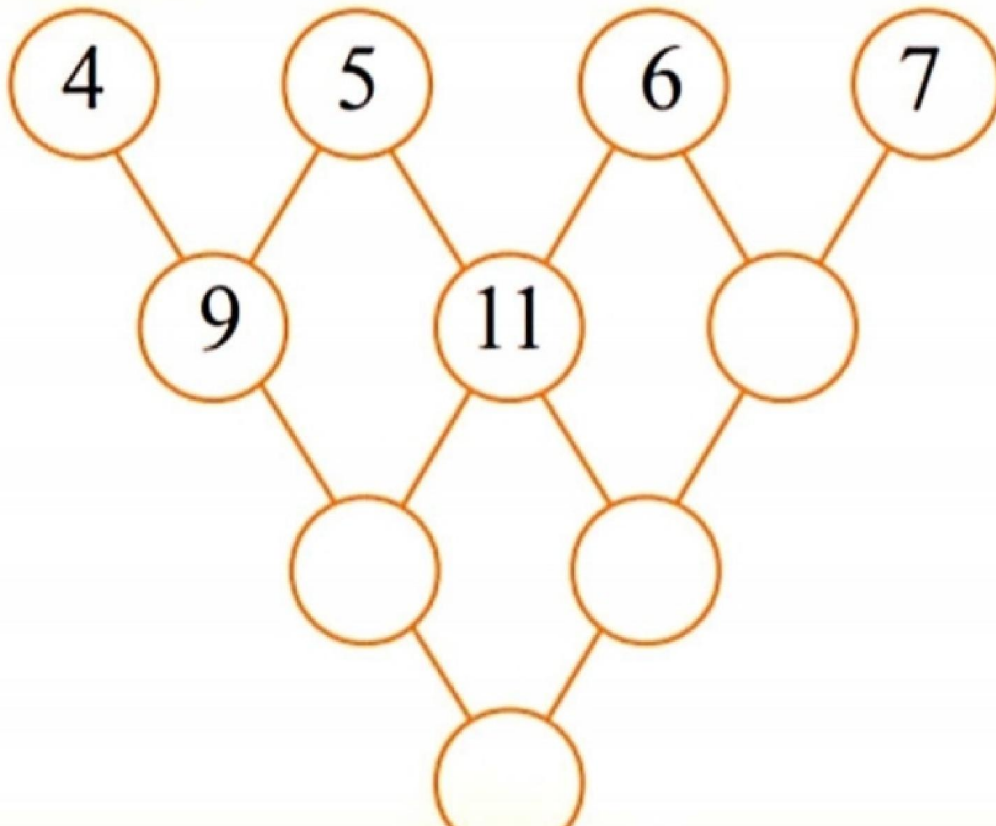
സ്റ്റാൻഡേർഡ്: രണ്ട്  
വിഷയം: ഗണിതം  
യൂണിറ്റ്: 3  
പാഠം: അധികമായാൽ  
വർക്ക് ഷീറ്റ് നമ്പർ: 1

ആരംഭം

## വൈറ്റ് ബോർഡ് ഷീറ്റ്

### കൂട്ടി എഴുതാം

അടുത്തടുത്ത രണ്ടു വട്ടങ്ങളിലെ സംഖ്യകൾ കൂട്ടി അതിനു താഴെയുള്ള വട്ടത്തിൽ എഴുതൂ



# കേക്ക്

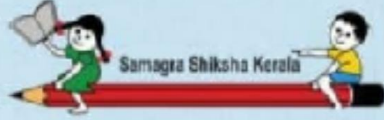
നിമ്മിയുടെ കൈയിൽ 24 കേക്ക് ഉണ്ട്. അതിൽ 3 എണ്ണം അവൾ കഴിച്ചു. അവളുടെ കൈയിൽ ബാക്കി എത്ര കേക്ക് ഉണ്ട്?



ആകെ കേക്കുകൾ =

നിമ്മി കഴിച്ചത് =

ബാക്കി =



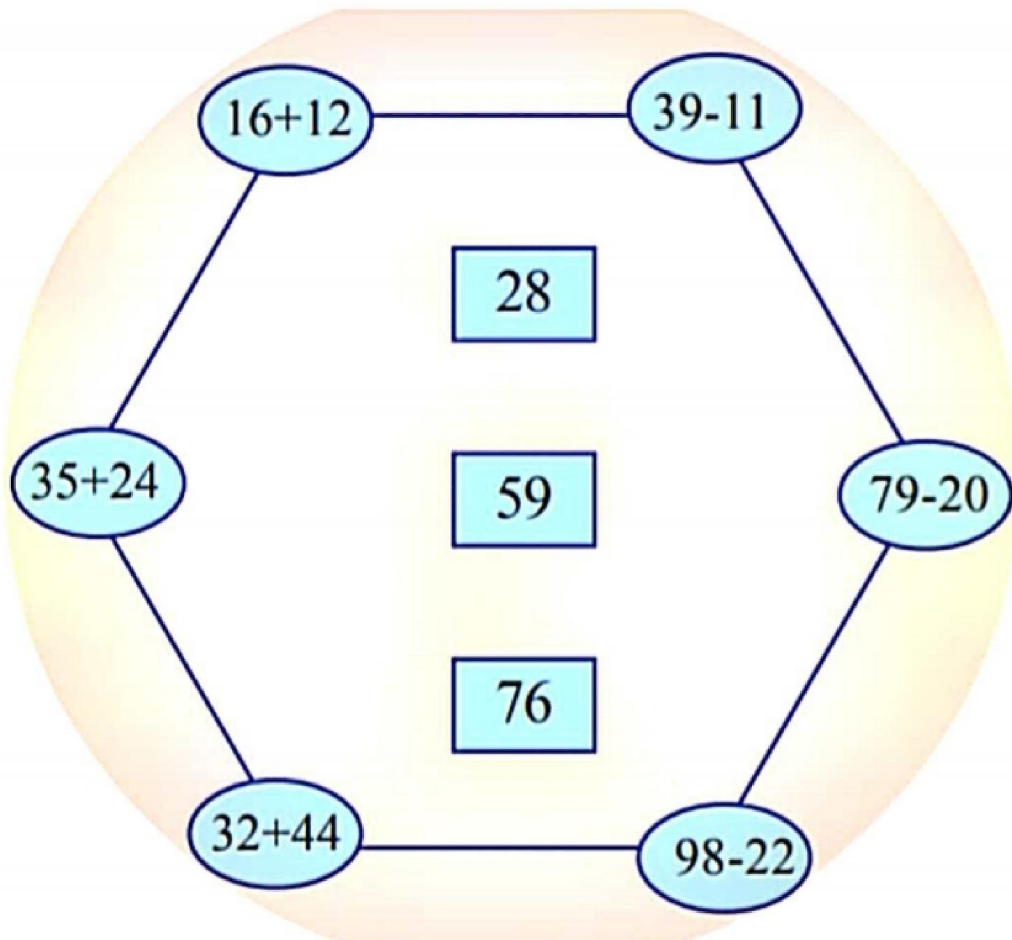
ജില്ലയുടെ പേര്: കാസറഗോഡ്  
ബി.ആർ.സി.യുടെ പേര്: ചെറുവത്തൂർ

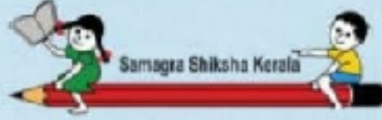
സ്റ്റാൻഡേർഡ്: രണ്ട്  
വിഷയം: ഗണിതം  
യൂണിറ്റ്: 3  
പാഠം: അധികമായാൽ  
വർക്ക് ഷീറ്റ് നമ്പർ: 3

## വൈറ്റ് ബോർഡ് ഷീറ്റ്

തുടർച്ച

ശരിയായ ഉത്തരത്തിലേക്ക് വരച്ചു ചേർക്കുക






ജില്ലയുടെ പേര്: കാസറഗോഡ്  
ബി.ആർ.സി.യുടെ പേര്: ചെറുവത്തൂർ

സ്റ്റാൻഡേർഡ്: രണ്ട്  
വിഷയം: ഗണിതം  
യൂണിറ്റ്: 3  
പാഠം: അധികമായാൽ  
വർക്ക് ഷീറ്റ് നമ്പർ: 4

## വൈറ്റ് ബോർഡ് ഷീറ്റ്


തുടർച്ച

**ചിത്രം വരക്കാം 100 നെ മനോഹരമാക്കാം.**



100 ന്റെ കൂടുതൽ ചിത്രം വരച്ച്  
മനോഹരമായി നിറം നൽകണം..





ജില്ലയുടെ പേര്: കാസറഗോഡ്  
ബി.ആർ.സി.യുടെ പേര്: ചെറുവത്തൂർ

സ്റ്റാൻഡേർഡ്: രണ്ട്  
വിഷയം: ഗണിതം  
യൂണിറ്റ്: 3  
പാഠം: അധികമായാൽ  
വർക്ക് ഷീറ്റ് നമ്പർ: 5

തുടർച്ച

## വൈറ്റ് ബോർഡ് ഷീറ്റ്

# 100 പലവിധം

..... പത്തു

..... ഒന്ന്


..... + .....

100

99 +

90 +

50 +



ജില്ലയുടെ പേര്: കാസറഗോഡ്  
ബി.ആർ.സി.യുടെ പേര്: ചെറുവത്തൂർ

സ്റ്റാൻഡേർഡ്: രണ്ട്  
വിഷയം: ഗണിതം  
യൂണിറ്റ്: 3  
പാഠം: അധികമായാൽ  
വർക്ക് ഷീറ്റ് നമ്പർ: 6

തുടർച്ച

# വൈറ്റ് ബോർഡ് ഷീറ്റ്

## ചുലുണ്ടാക്കാം...


ഓരോരുത്തരും കൊണ്ടുവന്ന ഈർക്കിലിന്റെ എണ്ണം എഴുതൂ.

പേര്	പത്ത്	ഒന്ന്	ആകെ
റിയ			<input type="text"/>
ദിയ			<input type="text"/>
ഉമർ			<input type="text"/>
റിജിത്ത്			<input type="text"/>
ബിനു			<input type="text"/>

10 ന്റെ എത്ര കെട്ടുകൾ ചേർന്നാൽ 100 ആകും?

ആകെ എത്ര ചുലുണ്ടാക്കാം?

ബാക്കി എത്ര ഈർക്കിൽ ഉണ്ട്?



ജില്ലയുടെ പേര്: കാസറഗോഡ്  
ബി.ആർ.സി.യുടെ പേര്: ചെറുവത്തൂർ

സ്റ്റാൻഡേർഡ്: 2  
വിഷയം: ഗണിതം  
യൂണിറ്റ്: 3  
പാഠം: അധികമായാൽ  
വർക്ക് ഷീറ്റ് നമ്പർ: 7

**അവസാനം**

## വൈറ്റ് ബോർഡ് ഷീറ്റ്

# കണ്ടെത്താം

ഏതൊക്കെ സംഖ്യകൾ ചേർന്നാൽ 55 കിട്ടും?

